

Name:







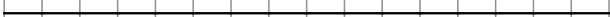
Klasse:

Datum:

# Zentimeter (cm)



① Miss die Länge der Strecken.

a)		c m
b)		c m
c)		c m
d)		c m
e)		c m
f)		c m
g)		c m

② Zeichne die Strecken.

- a) 3 cm
- b) 5 cm
- c) 1 cm
- d) 10 cm
- e) 8 cm
- f) 4 cm
- g) 12 cm

